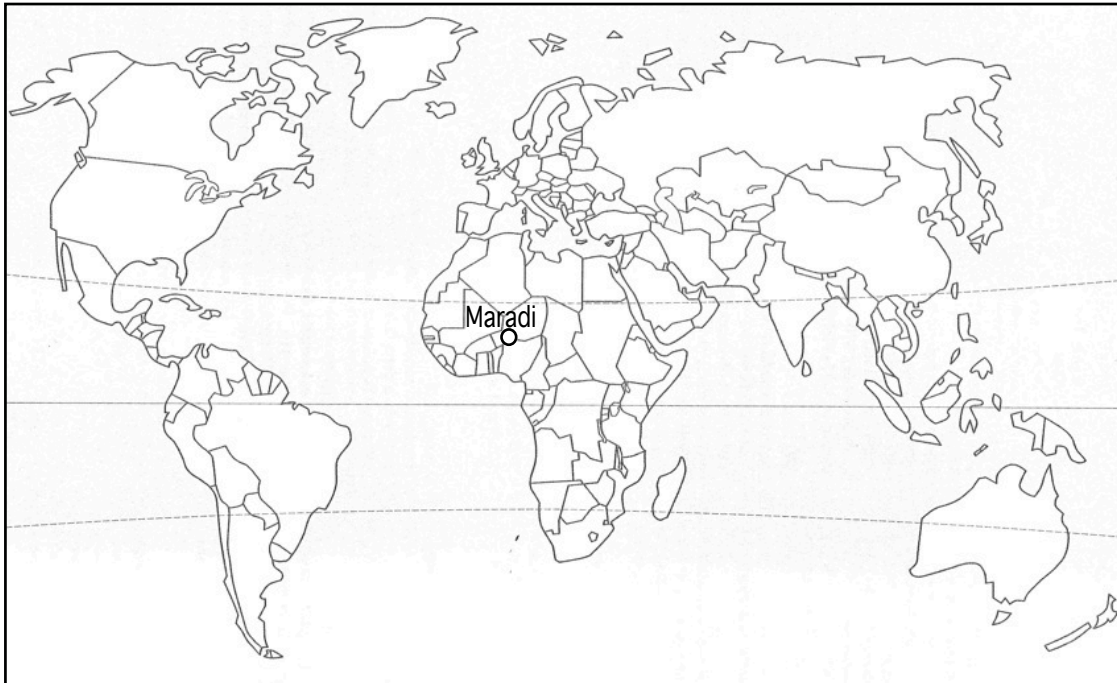


Devoir de géographie sur les dynamiques démographiques et le développement durable.

6 points

Exercice de localisation



- 1 • Indique sur le planisphère les océans et les continents.
- 2 • Indique et colorie en rouge deux États qui connaissent une forte croissance démographique.
- 3 • Indique et colorie en jaune deux États qui connaissent une faible croissance démographique.
- 4 • Indique et colorie en violet deux États qui ont un IDH proche de 1.
- 5 • Indique et colorie en vert deux États qui ont un IDH faible.

La situation démographique du Niger

Le Gouverneur de la Région de Maradi, le Colonel Garba Maïkido a rappelé que de 7 251 626 habitants en 1988, l'effectif de la population totale du pays est passé à 11 060 291 habitants en 2001, selon les résultats définitifs du recensement général de la population et de l'habitat elle est de 15 203 822 habitants en 2010. En ce qui concerne Maradi, la région compte selon le Gouverneur, 2 235 748 habitants d'après les résultats définitifs du recensement général de la population et de l'habitat de 2001 et 3 021 169 en 2010. Le taux de natalité est de 51‰ et celui de mortalité de 21‰. 66% de la population a moins de 25 ans. L'indice de fécondité est de 8 enfants par femme, l'indice de pauvreté est de 64% ; l'indice de l'extrême pauvreté est de 29% et enfin la densité est de 53,5 habitants au kilomètre carré. Cette situation, selon le Gouverneur, n'est pas sans conséquence sur les secteurs de développement socio-économique de la région.

Ainsi, a noté le Colonel Garba Maïkido, la forte concentration humaine dans la région entraîne une augmentation des terres cultivables, l'épuisement des sols, la dégradation de l'environnement et les conflits sociaux (agriculteurs- éleveurs).


D'après Sahel Dimanche du 13 juillet 2010.

Maradi, ville du Niger est la troisième plus grande ville du pays avec plus de 300 000 habitants, c'est aussi la capitale économique du Niger.

1 • Où se trouve le Niger?

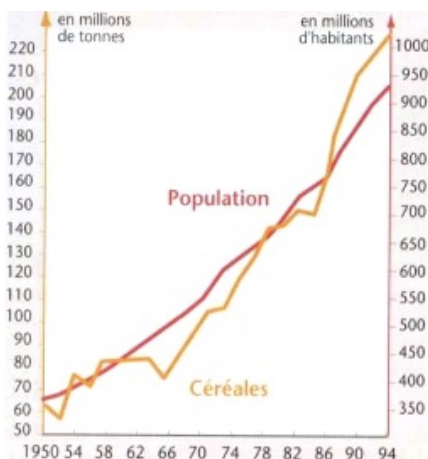
8 points

- 2 • Comment a évolué la population du Niger en 22 ans?
- 3 • Calcule le taux d'accroissement naturel du Niger.
- 4 • Explique ce qu'est l'indice de fécondité.
- 5 • Quelle est la situation sociale de la majorité des habitants?
- 6 • La population connaît-elle un vieillissement (réponse à justifier) ?
- 7 • Trouve quatre conséquences de l'accroissement de la population.
- 8 • Explique le dessin.



Population et Production de céréales en Inde

5 points



- 9 • Quelle est la nature du document?
- 10 • Pourquoi avoir choisi des courbes?
- 11 • Décris les deux courbes.
- 12 • Comment voit-on que l'Inde a atteint l'autosuffisance alimentaire (c'est à dire quelle peut nourrir sa population) ?
- 13 • Qu'appelle-t-on la révolution verte?

Synthèse

4 points

Présente l'évolution de la population mondiale et explique pourquoi la gestion des ressources va être importante.

Tu peux donner des chiffres, trouve les éléments de réponse dans les documents et dans le cours.



Ton travail doit être présenté sur une copie double avec entête.

Toutes les réponses doivent être sous la forme de phrases et reprendre l'objet de la question (évite les pronoms).

Si la présentation n'est pas soignée deux points seront retirés.