

Test de Géographie sur la démographie

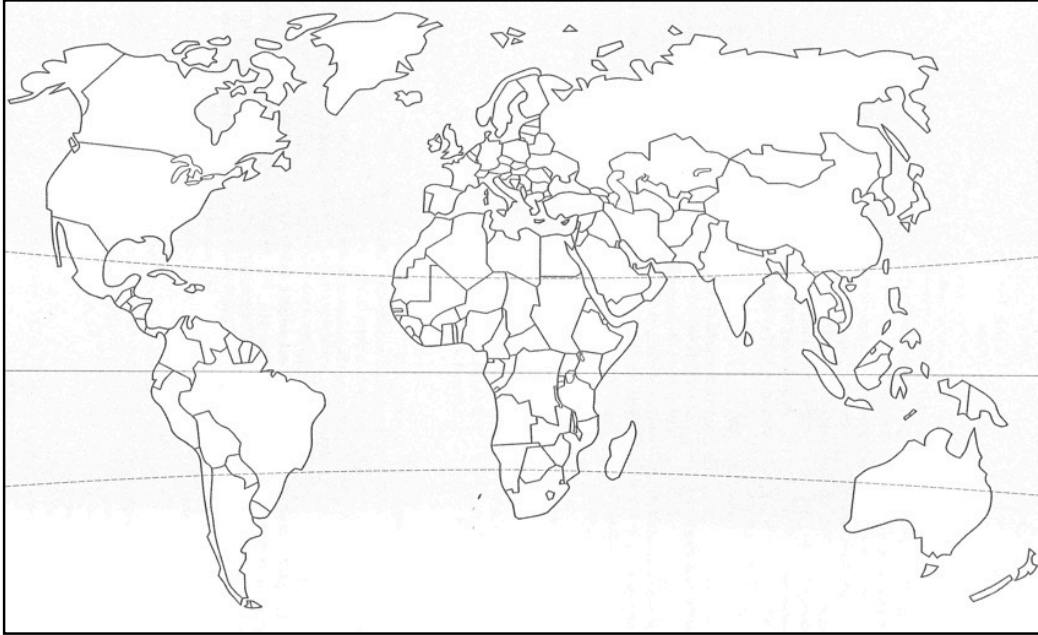
Nom :

Prénom :

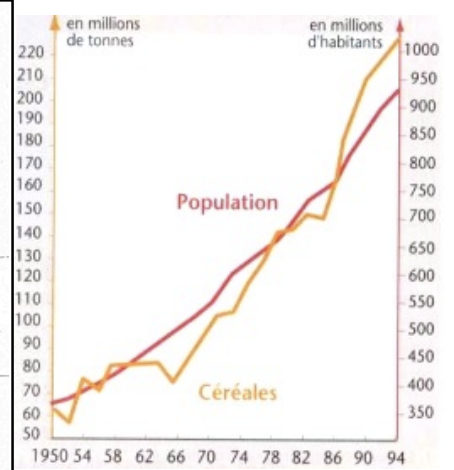
Classe :

Date :

note :



- 1 • Indique sur le planisphère les océans.
- 2 • Indique et entoure de rouge un foyer de peuplement de plus de 1 milliard d'habitants.
- 3 • Indique et entoure de vert un foyer de peuplement de moins de 1 milliard d'habitants.



- 4 • Quelle est la nature du document?
- 5 • Pourquoi avoir choisi des courbes?
- 6 • Décris les deux courbes.
- 7 • A combien d'habitants s'élevait la population de l'Inde en 1974?
- 8 • L'Inde peut-elle fournir de la nourriture pour toute sa population ?
- 9 • Donne la définition de taux de natalité.
- 10 • Donne la définition d'accroissement naturel.

Test de Géographie sur la démographie

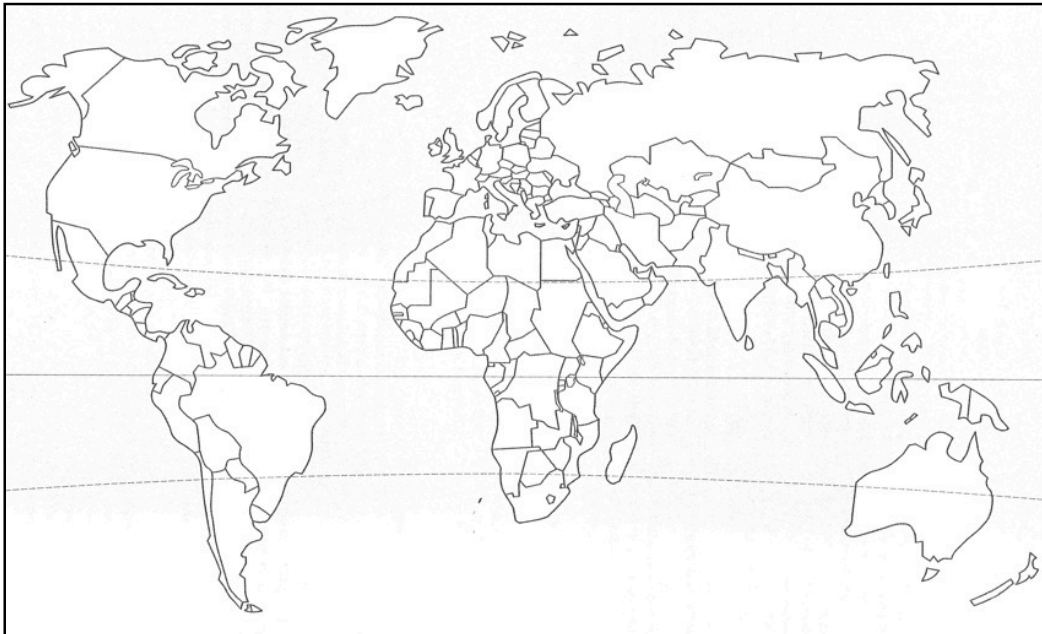
Nom :

Prénom :

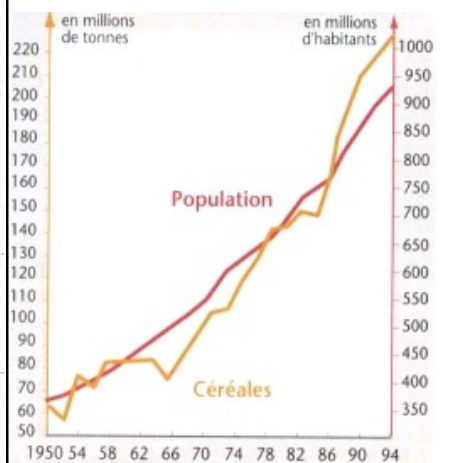
Classe :

Date :

note :



- 1 • Indique sur le planisphère les continents.
- 2 • Indique et entoure de rouge un foyer de peuplement de moins de 1 milliard d'habitants.
- 3 • Indique et entoure de noir un foyer de peuplement de plus de 1 milliard d'habitants.



- 4 • Quelle est la nature du document?
- 5 • Pourquoi avoir choisi des courbes?
- 6 • Décris chaque courbe.
- 7 • Combien de tonnes de céréales étaient produites par l'Inde en 1974?
- 8 • L'Inde peut-elle fournir de la nourriture pour toute sa population ?
- 9 • Donne la définition de taux de mortalité.
- 10 • Donne la définition d'espérance de vie.