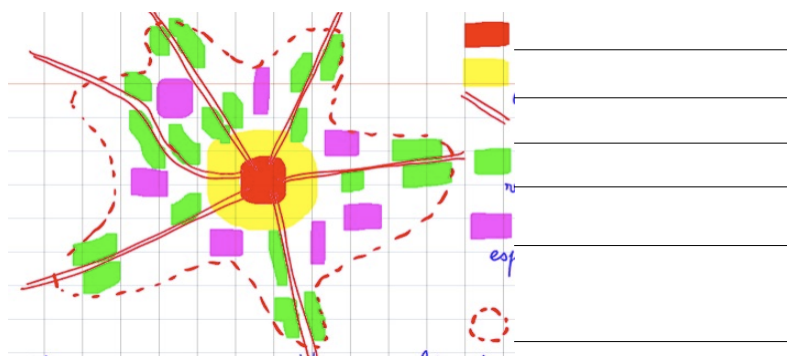


Nom :

- 1 • Colorie en orange sur la carte les deux États les plus peuplés et indique leurs noms.
- 2 • Entoure de rouge un foyer de peuplement de plus de un milliard d'habitants et indique son nom et le nombre d'habitants.
- 3 • Colorie en vert sur la carte les deux États les plus vastes et indique leurs noms.
- 4 • Place deux villes d'Afrique et deux villes d'Amérique (en indiquant leur nom sur la carte).
- 5 • Indique un désert humain d'Eurasie et un autre d'Amérique.

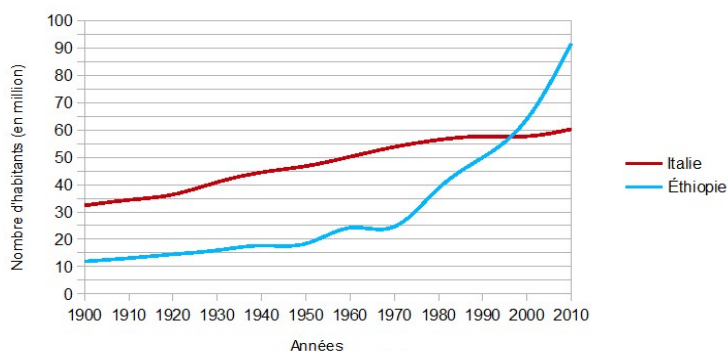


- 6 • Complète la légende du schéma et donne lui un titre.



- 7 • Décris chaque courbe et compare l'évolution de la population des deux pays.

Courbe d'évolution de la population



Sources : [lien Éthiopie](#) / [lien Italie](#)

Mais à quel niveau la population mondiale va finalement se stabiliser ? On pensait tenir une réponse sérieuse grâce aux projections des Nations unies qui tablaient sur un pic à l'horizon 2050 avec une stabilisation proche de 9 milliards d'habitants (selon un communiqué de presse du 4 novembre 2004).

Or, cet horizon qui avait de quoi rassurer les plus inquiets est remis en question. En juin 2013, la même institution qui fait référence a publié un rectificatif à ses prévisions: on ne parle plus de stabilisation probable à 9 milliards d'habitants mais plutôt à 11 milliards en 2100, ce qui n'est pas la même chose. [...] la solution réside peut-être dans une double rupture : un changement drastique des modes de production et de consommation afin de les rendre durables, c'est-à-dire beaucoup plus sobres en ressources naturelles ; une acception réelle de mises en œuvre de politiques de limitation des naissances.

**Stéphane Madaule, Le Monde, 26 août 2013**  
*drastique : très sévère*

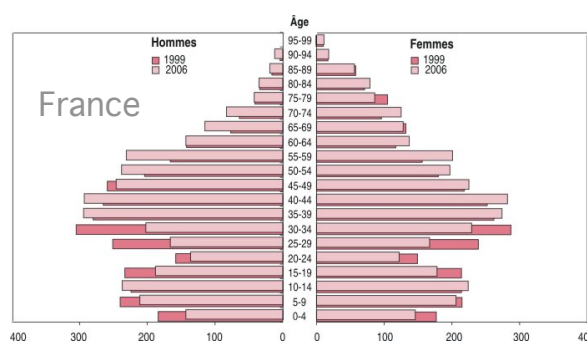
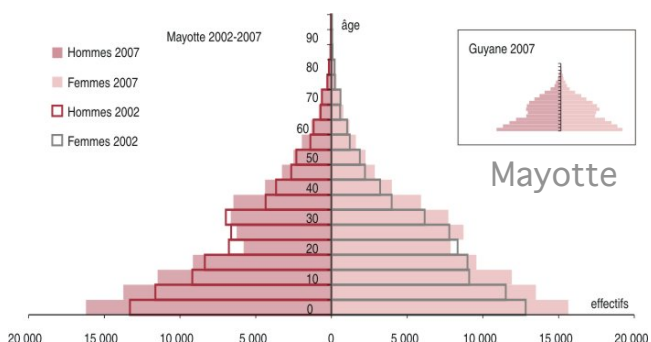
9• Questions sur le texte

- Présente les deux scénarios
- Quels sont les problèmes qui peuvent se poser?
- Souligne les solutions proposées par le texte

10• Définir : densité, émigré, minorité, insalubre

- 8 • Quel nom donne-t-on à ces documents?

Comment se répartit la population de Mayotte (France d'outre mer), compare avec la France métropolitaine. Dans quelle situation observe-t-on le vieillissement de la population ?



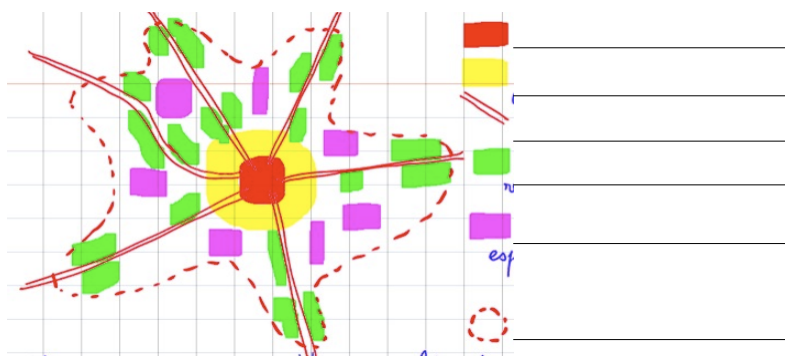
Nom :

D

- Colorie en jaune sur la carte les deux États les plus vastes et indique leurs noms.
- Entoure de rouge un foyer de peuplement de moins de un milliard d'habitants et indique son nom et le nombre d'habitants.
- Colorie en brun sur la carte les deux États les plus peuplés et indique leurs noms.
- Place quatre villes d'Eurasie (en indiquant le nom sur la carte).
- Indique un désert humain d'Afrique et un autre d'Océanie.

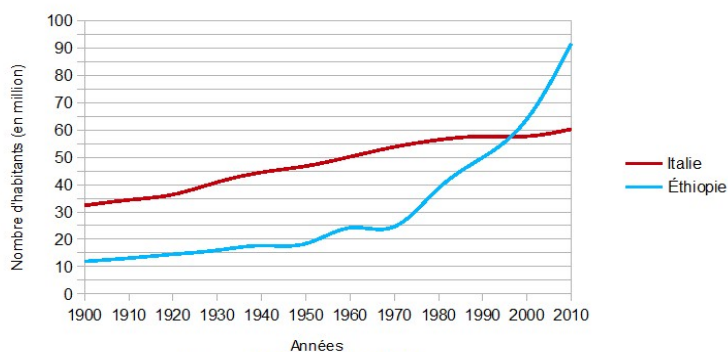


- Complète la légende du schéma et donne lui un titre.



- Décris chaque courbe et compare l'évolution de la population des deux pays.

Courbe d'évolution de la population



Sources : [lien Éthiopie](#) / [lien Italie](#)

Mais à quel niveau la population mondiale va finalement se stabiliser ? On pensait tenir une réponse sérieuse grâce aux projections des Nations unies qui tablaient sur un pic à l'horizon 2050 avec une stabilisation proche de 9 milliards d'habitants (selon un communiqué de presse du 4 novembre 2004).

Or, cet horizon qui avait de quoi rassurer les plus inquiets est remis en question. En juin 2013, la même institution qui fait référence a publié un rectificatif à ses prévisions: on ne parle plus de stabilisation probable à 9 milliards d'habitants mais plutôt à 11 milliards en 2100, ce qui n'est pas la même chose. [...] la solution réside peut-être dans une double rupture : un changement drastique des modes de production et de consommation afin de les rendre durables, c'est-à-dire beaucoup plus sobres en ressources naturelles ; une acception réelle de mises en œuvre de politiques de limitation des naissances.

Stéphane Madaule, *Le Monde*, 26 août 2013  
*drastique : très sévère*

9• Questions sur le texte

- Présente les deux scénarios
- Quels sont les problèmes qui peuvent se poser?
- Souligne les solutions proposées par le texte

10• Définir : État, littoral, immigré, P.I.B.

- Quel nom donne-t-on à ces documents?

Comment se répartit la population de Mayotte (France d'outre mer), compare avec la France métropolitaine. Dans quelle situation observe-t-on le vieillissement de la population ?

